











Şekil Sayı Eşleştirme

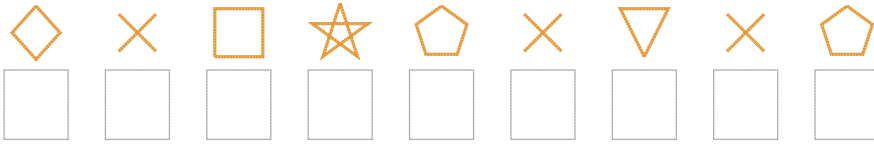
 = 4	 = 5	 = 0	 = 6	 = 9	 = 8	 = 7	 = 1	 = 2	 = 3
--	--	--	--	--	--	---	--	--	--

Aşağıdaki uzun şifreleri hatasız çözerek altlarına yazın:

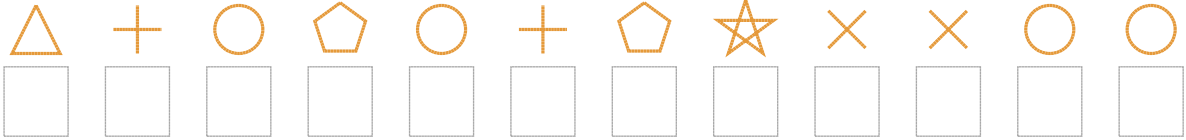
1. Şifre



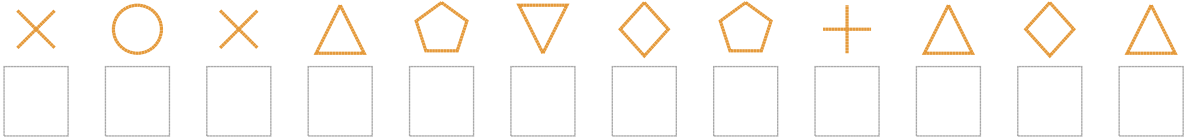
2. Şifre



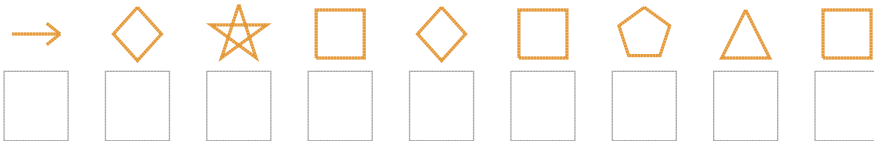
3. Şifre



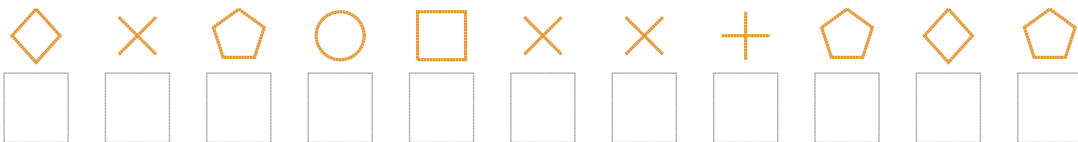
4. Şifre



5. Şifre



6. Şifre



7. Şifre



❑ BONUS: 6. ve 4. şifrenin ikinci rakamının toplamı kaçtır?

Cevap Anahtarı

1. Şifre: 6942147702
2. Şifre: 561406760
3. Şifre: 983038046633
4. Şifre: 636907508959
5. Şifre: 254151091
6. Şifre: 56031668050
7. Şifre: 356404640763

□ Bonus Soru Cevabı: 9